

Lire l'heure



Avec des chiffres

Pour lire l'heure, il faut connaître les unités : **les heures (h)**, **les minutes (min)**, **les secondes (sec)**.

Exemples :

Sur une montre digitale	8 : 15	16 : 28	21 : 09
On dit " Il est ... "	8 h 15 min	16 h 28 min	21 h 09 min

Avec des aiguilles

La petite aiguille indique les heures. Je regarde ensuite **la grande aiguille** qui indique les minutes. Je termine par **l'aiguille la plus fine** qui indique les secondes. Pour lire les aiguilles sur une pendule, il faut donc faire attention à leur taille !

Les nombres du cadran indiquent les heures.

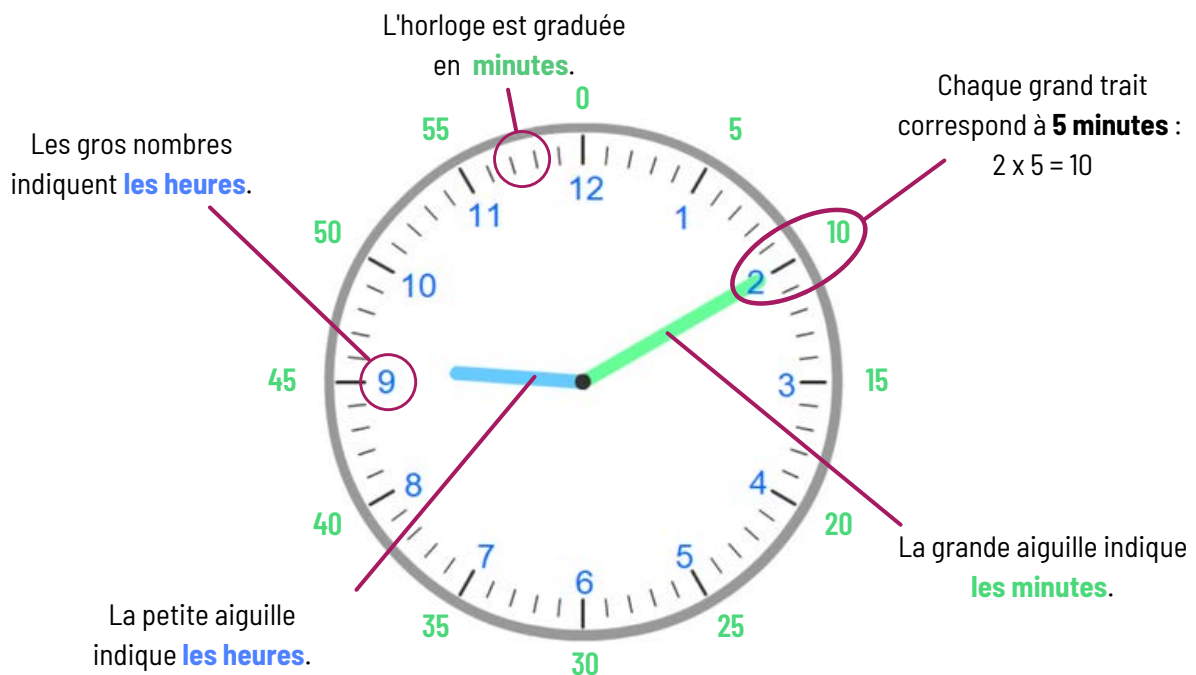
Chaque petit trait correspond à une minute ou une seconde en fonction de l'aiguille que l'on regarde.



Astuce : Pour connaître le nombre des minutes tu peux multiplier le nombre indiqué par 5.

Exemples : La grande aiguille est sur le 3 → 15 minutes ($3 \times 5 = 15$).

La grande aiguille est sur le 8 → 40 minutes ($8 \times 5 = 40$).



Il est 9 heures et 10 minutes.

Pour passer de l'heure du matin à l'heure du soir il suffit d'ajouter **12 heures**.

3 h 14 min (l'après-midi) → je calcule $3 + 12 = 15$, on dit qu'il est 15 h 14 min.

7 h 30 min (le soir) → je calcule $7 + 12 = 19$, on dit qu'il est 19 h 30 min.

10 h 45 min (le soir) → je calcule $10 + 12 = 22$, on dit qu'il est 22 h 45 min.

Lire l'heure : Entraînement 1



1 **Écris l'heure qu'il est.**



... h ... min



... h ... min



... h ... min

2 **Écris l'heure qu'il est.**



... h ... min



... h ... min



... h ... min




... h ... min



... h ... min



... h ... min



... h ... min



... h ... min




... h ... min



... h ... min



... h ... min



... h ... min

Lire l'heure : Correction 1

1 **Écris l'heure qu'il est.**



3 h 05 min



6 h 52 min



7 h 23 min

2 **Écris l'heure qu'il est.**



10 h 20 min



2 h 25 min



11 h 32 min



5 h 03 min



11 h 48 min



8 h 01 min



1 h 14 min



6 h 42 min



12 h 17 min



6 h 00 min



10 h 58 min




7 h 26 min

Lire l'heure : Exercice d'application 1

cahier du jour

Écris l'heure qu'il est.



... h ... min



.....



.....

Écris l'heure qu'il est.



... h ... min



.....



.....

Écris l'heure qu'il est.



... h ... min




.....



.....

Écris l'heure qu'il est.



... h ... min



.....



.....

Lire l'heure : Entraînement 2

1 **Écris l'heure qu'il est.**



... h ... min



... h ... min



... h ... min

2 **Écris l'heure qu'il est.**




.....



.....



.....



.....



.....



.....



.....



.....



.....



.....



.....



.....

Lire l'heure : Correction 2

1 *Écris l'heure qu'il est.*



9 h 29 min



7 h 03 min



7 h 23 min

2 *Écris l'heure qu'il est.*




9 h 15 min



1 h 46 min



11 h 08 min



3 h 00 min



12 h 02 min



8 h 56 min



7 h 18 min



5 h 49 min



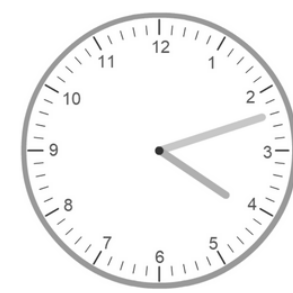
6 h 35 min



1 h 11 min



9 h 19 min



4 h 12 min

Lire l'heure : Exercice d'application 2

cahier du jour

Écris l'heure qu'il est.



... h ... min



.....



.....

Écris l'heure qu'il est.



... h ... min



.....



.....

Écris l'heure qu'il est.



... h ... min



.....



.....

Écris l'heure qu'il est.



... h ... min











.....




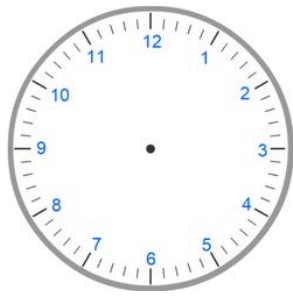






.....


Lire l'heure : Entraînement 3

1 **Écris l'heure qu'il est.**

 <p>... h ... min ... sec</p>	 <p>.....</p>	 <p>.....</p>	 <p>.....</p>
 <p>.....</p>	 <p>.....</p>	 <p>.....</p>	 <p>.....</p>

2 **Trace les aiguilles des heures et des minutes en fonction de l'heure indiquée.**

 <p>3 h 30 min</p>	 <p>6 h 15 min</p>	 <p>8 h 45 min</p>	 <p>11 h 53 min</p>
 <p>7 h 38 min</p>	 <p>10 h 07 min</p>	 <p>2 h 24 min</p>	 <p>4 h 18 min</p>

Lire l'heure : Correction 31 **Écris l'heure qu'il est.****11 h 13 min 32 sec****7 h 26 min 58 sec****8 h 18 min 37 sec****6 h 03 min 15 sec****11 h 25 min 00 sec****9 h 07 min 46 sec****4 h 53 min 36 sec****1 h 00 min 10 sec**2 **Trace les aiguilles des heures et des minutes en fonction de l'heure indiquée.**

3 h 30 min



6 h 15 min



8 h 45 min



11 h 53 min



7 h 38 min



10 h 07 min



2 h 24 min



4 h 18 min

Lire l'heure : Exercice d'application 3

cahier du jour

Écris l'heure qu'il est.



... h ... min ... sec



.....



.....

Écris l'heure qu'il est.



... h ... min ... sec



.....



.....

Écris l'heure qu'il est.



... h ... min ... sec



.....



.....

Écris l'heure qu'il est.



... h ... min ... sec



.....



.....

Lire l'heure : Entraînement 4

1 **Écris l'heure qu'il est.**



... h ... min ... sec



.....



.....



.....



.....



.....



.....




.....

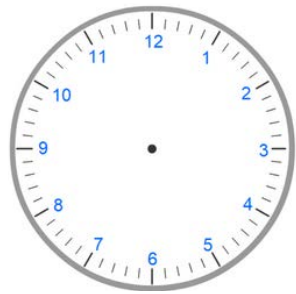
2 **Trace les aiguilles des heures et des minutes en fonction de l'heure indiquée.**



4 h 17 min




16 h 08 min




13 h 49 min



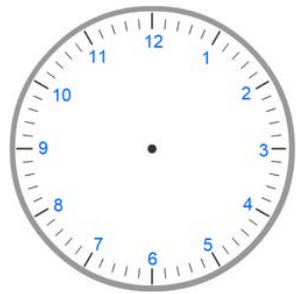
18 h 14 min



7 h 52 min



15 h 33 min



5 h 29 min



11 h 06 min

Lire l'heure : Correction 41 **Écris l'heure qu'il est.****5 h 23 min 38 sec****11h 13min 18 sec****7h 52min 56 sec****2h 14min 19 sec****9 h 18 min 59 sec****5 h 39 min 09 sec****3 h 02 min 36 sec****4 h 57 min 21 sec**2 **Trace les aiguilles des heures et des minutes en fonction de l'heure indiquée.**

4 h 17 min



16 h 08 min



13 h 49 min



18 h 14 min



7 h 52 min




15 h 33 min




5 h 29 min




11 h 06 min

Lire l'heure : Exercice d'application 4**cahier du jour****Trace les aiguilles des heures et des minutes en fonction de l'heure indiquée.**


8 h 19 min




12 h 42 min




16 h 34 min

Trace les aiguilles des heures et des minutes en fonction de l'heure indiquée.


8 h 19 min



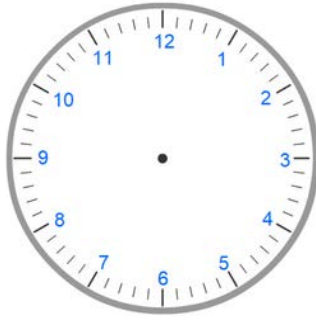
12 h 42 min




16 h 34 min

Trace les aiguilles des heures et des minutes en fonction de l'heure indiquée.


8 h 19 min



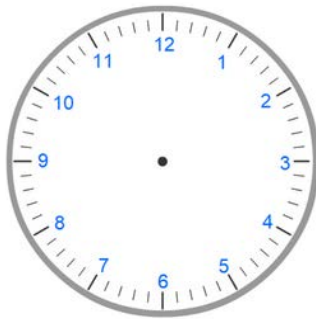
12 h 42 min




16 h 34 min

Trace les aiguilles des heures et des minutes en fonction de l'heure indiquée.

8 h 19 min



12 h 42 min



16 h 34 min

Lire l'heure : Entraînement 5

1 **Écris l'heure qu'il est.**



... h ... min ... sec



.....



.....



.....

2 **Écris l'heure du matin et l'heure de l'après-midi.**




... h ... min | ... h ... min



... h ... min | ... h ... min

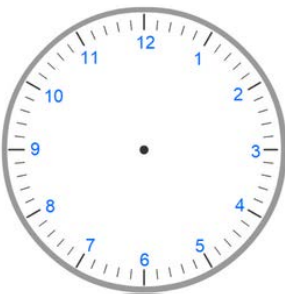


... h ... min | ... h ... min

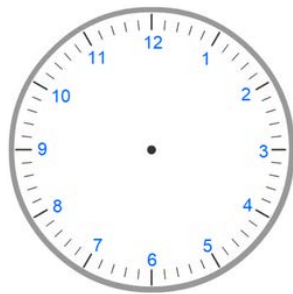


... h ... min | ... h ... min

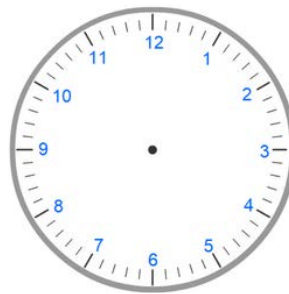
2 **Trace les aiguilles des heures et des minutes en fonction de l'heure indiquée.**



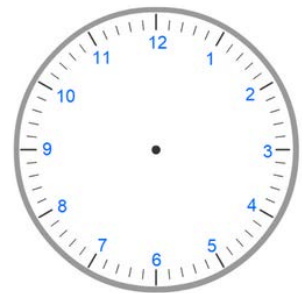
22 h 10 min




5 h 30 min



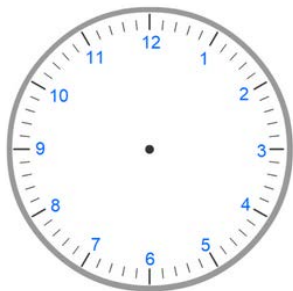
11 h 54 min



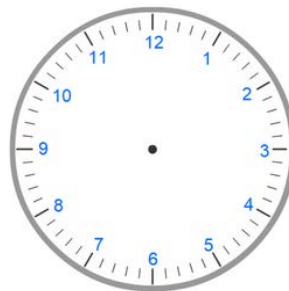
13 h 25 min




14 h 37 min




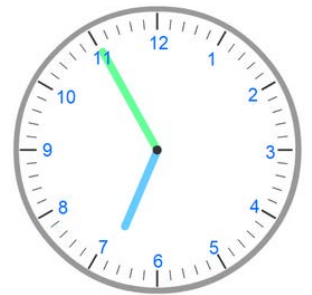
17 h 49 min



5 h 16 min



18 h 55 min

Lire l'heure : Correction 51 **Écris l'heure qu'il est.****8 h 12 min 20 sec****12 h 26 min 41 sec****3 h 10 min 29 sec****1 h 23 min 50 sec**2 **Écris l'heure du matin et l'heure de l'après-midi.****6 h 13 min 18 h 13 min****1 h 22 min 13 h 22 min****10 h 45 min 22 h 45 min****4 h 38 min 16 h 38 min**2 **Trace les aiguilles des heures et des minutes en fonction de l'heure indiquée.****22 h 10 min****5 h 30 min****11 h 54 min****13 h 25 min****14 h 37 min****17 h 49 min****5 h 16 min****18 h 55 min**

Lire l'heure : Exercice d'application 5**cahier du jour*****Pour chaque horloge, écris l'heure du matin et l'heure de l'après-midi.***

... h ... min | ... h ... min



... h ... min | ... h ... min



... h ... min | ... h ... min

Pour chaque horloge, écris l'heure du matin et l'heure de l'après-midi.

... h ... min | ... h ... min



... h ... min | ... h ... min



... h ... min | ... h ... min

Pour chaque horloge, écris l'heure du matin et l'heure de l'après-midi.

... h ... min | ... h ... min



... h ... min | ... h ... min



... h ... min | ... h ... min

Pour chaque horloge, écris l'heure du matin et l'heure de l'après-midi.

... h ... min | ... h ... min







... h ... min | ... h ... min





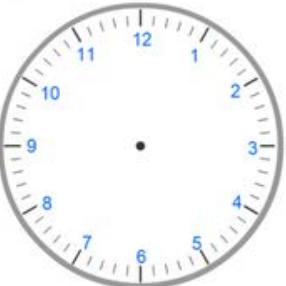




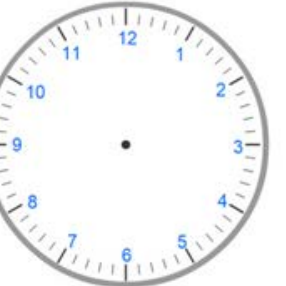
... h ... min | ... h ... min

Prénom		Date	
Note		Appréciation	





1) Ecris l'heure qu'il est.

			
..... h min			

2) Trace les aiguilles des heures et des minutes en fonction de l'heure indiquée.

			
5 h 30 min	9 h 15 min	3 h 45 min	6 h 00 min
			
13 h 10 min	9 h 23 min	16 h 07 min	19 h 50 min

3) Ecris ces heures de deux manières différentes.

			
Matin	Matin	Matin	Matin
..... h min			
Après-midi	Après-midi	Après-midi	Après-midi
..... h min			